


Umfang 3




1. Ein quadratisches Kopfkissen hat eine Seitenlänge von 80 cm.
Wie groß ist sein Umfang? Zeichne eine Skizze.




Antwort: Der Umfang des Quadrats beträgt ____ cm.

2. Bauer Müller möchte das Blumenbeet seiner Frau einzäunen, damit die Hühner nicht mehr hineinkommen. Das Beet ist 5 m breit und 4 m lang. Wie viele Meter Zaundraht muss er kaufen? Zeichne eine Skizze.



Antwort: _____

3. Der Polizist will einen Unfallort absperren. Der rechteckige Unfallort ist 12 m breit und 16 m lang. Das Absperrband ist 50 m lang. Reicht es?
Zeichne eine Skizze.



Antwort: _____