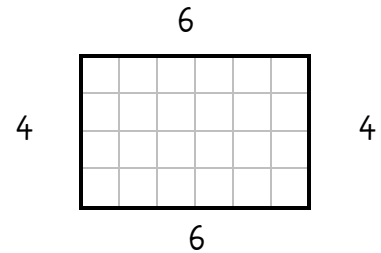




Umfang 1

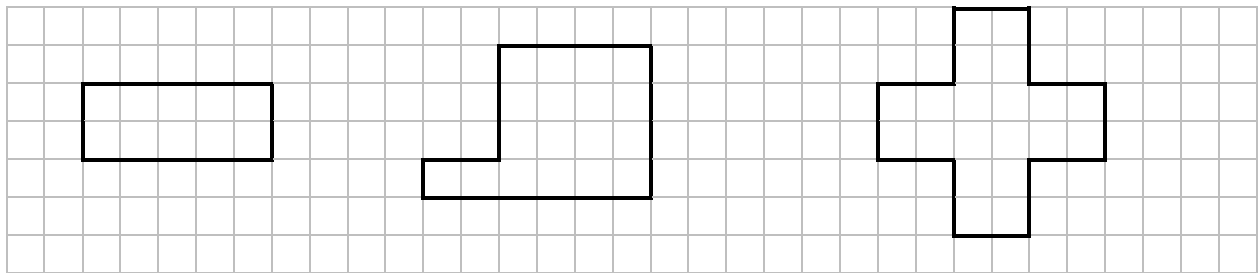
1. Berechne den Umfang der Figur in Einheitslängen (Kästchenlänge).

Der Umfang einer Figur bezeichnet die gesamte Länge seiner Seitenlängen.



Rechnung: _____

2. Bestimme den Umfang der Figuren in Einheitslängen (Kästchenlängen).




___ Einheitslängen

___ Einheitslängen

___ Einheitslängen

3. Zeichne drei Figuren mit dem angegebenen Umfang in Einheitslängen.



12 Einheitslängen

24 Einheitslängen

32 Einheitslängen