











L'heure 1 – SOLUTION

(Für mehr Nachhaltigkeit: Vergleicht die Lösungen am Bildschirm und druckt diese nicht aus.)

Quelle heure est-il ?

Wie spät ist es?

	Il est deux heures et demie.
	Il est sept heures et quart.
	Il est huit heures moins le quart.
	Il est six heures moins le quart.
	Il est huit heures.
	Il est cinq heures et demie.
	Il est trois heures moins le quart.
	Il est neuf heures et quart.
	Il est dix heures et demie.
	Il est midi. / Il est minuit.

2 possibilités