

Ordinalzahlen 5 – Lösung

(Für mehr Nachhaltigkeit: Vergleiche die Lösungen am Bildschirm und drucke diese nicht aus.)

Schreibe die Brüche in Zahlen und in Buchstaben.



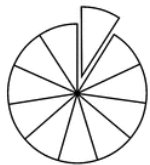
$\frac{1}{8}$

ein Achtel



$\frac{1}{3}$

ein Drittel




$\frac{1}{11}$

ein Elftel



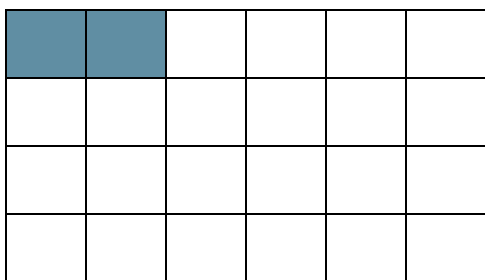
$\frac{2}{7}$

zwei Siebtel




$\frac{5}{12}$

fünf Zwölftel



$\frac{2}{24}$

zwei Vierundzwanzigstel



$\frac{9}{28}$

neun Achtundzwanzigstel